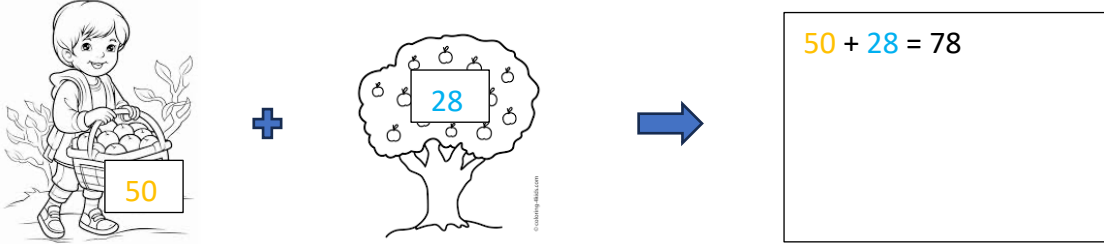


Voici quelques problèmes à résoudre. Tu peux faire des schémas pour t'aider comme dans l'exemple ci-dessous :

Exemple Problème N°1	
Énoncé : Léa a 50 pommes dans son panier. Elle en cueille 28 de plus. Combien a-t-elle de pommes en tout ?	
Espace Raisonement :	
	
Phrase réponse : Léa a 78 pommes en tout	

Problème N°1	
Énoncé : Le car Raï part de Nouméa avec 62 passagers. Il s'arrête à Bourail et 54 personnes montent dans le bus. Combien de passager y'a-t-il en tout ?	
Espace Raisonement :	
Phrase réponse :	

Problème N°2	
Énoncé : Sarah a acheté 6 paquets de gâteaux. Dans chaque paquet, il y a 12 gâteaux. Combien de gâteaux y'a-t-il en tout ?	
Espace Raisonement :	
Phrase réponse :	

Problème N°3

Énoncé : Ma grande sœur a acheté 3 paquets de 36 bonbons pour Halloween. Après le passage des enfants il ne restait que 12 bonbons.

Combien de bonbon a-t-elle distribué ?

Espace Raisonnement :

Phrase réponse :

Problème N°4

Énoncé : Marc a fait des économies et a 3500 francs dans sa tirelire. Pour son anniversaire, il a reçu une enveloppe de 8450 francs. Il a vu un super vélo à 10700 francs.

Peut-il l'acheter ?

Espace Raisonnement :

Phrase réponse :

Problème N°5

Énoncé : Dans son jardin, Lila a 378 salades, 654 carottes et 324 concombres. Elle décide de faire des paniers égaux pour ses voisins.

Combien de paniers peut-elle faire ? et que lui reste-t-il ?

Espace Raisonnement :

Phrase réponse :

Problème N°6

Énoncé : Dans un jardin on a 9 rangées de 9 ignames, 7 rangées de 12 patates et 4 rangées de poireaux.
Combien y'a-t-il de légumes en tout ?

Espace Raisonement :

Phrase réponse :

Problème N°7

Énoncé : J'ai une tablette de chocolat. Ma tablette a 8 rangées de 6 carrés de chocolat. J'en donne un à chacun de mes copains.
A combien de copains en ai-je donné ?

Espace Raisonement :

Phrase réponse :

Problème N°8

Énoncé : La super lampe à la mode a besoin de 8 ampoules pour fonctionner.
Combien d'ampoules a-t-on besoin pour 54 lampes ?

Espace Raisonement :

Phrase réponse :

Problème N°9

Énoncé : Pour mon mariage, j'ai 126 invités assis autour de 21 tables.
Combien y a-t-il d'invités par table ?

Espace Raisonnement :

Phrase réponse :

Problème N°10

Énoncé : A la ferme, mon oncle a ramené 345 nouvelles poules. Maintenant, nous avons 1568 animaux.
Combien d'animaux y'avait-il au départ ?


Espace Raisonnement :

Phrase réponse :

Le Mandala


Le matériel dont tu auras besoin :

- une feuille de papier
- un crayon de papier
- une gomme
- un compas
- un rapporteur
- une règle
- un stylo ou feutre noir à pointe fine






Etape 1: Tracer un cercle

Trace un grand cercle avec ton compas. Ce cercle représente la taille finale de ton mandala. N'hésite pas à le faire assez grand.

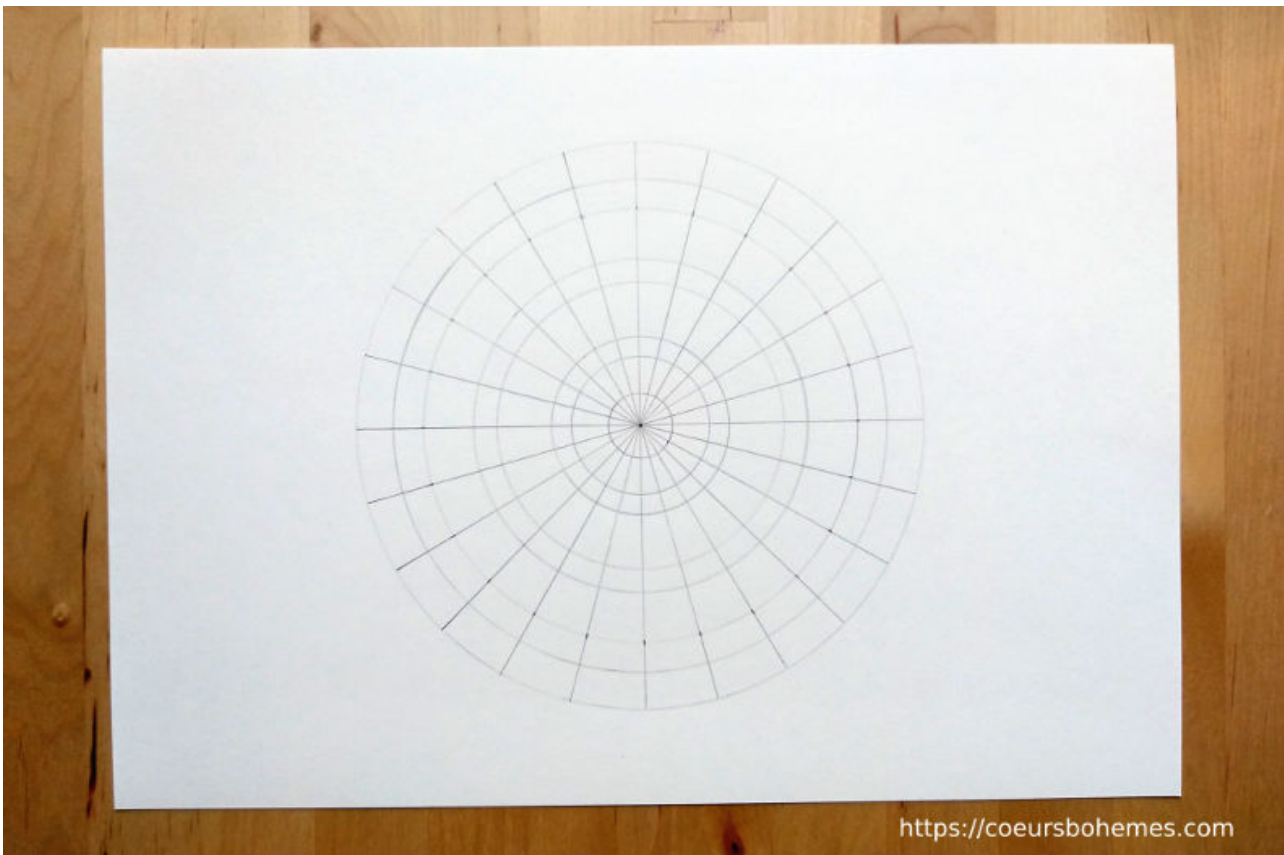


Etape 2: Diviser le cercle en plusieurs parties






Etape 4: Tracer plusieurs cercles

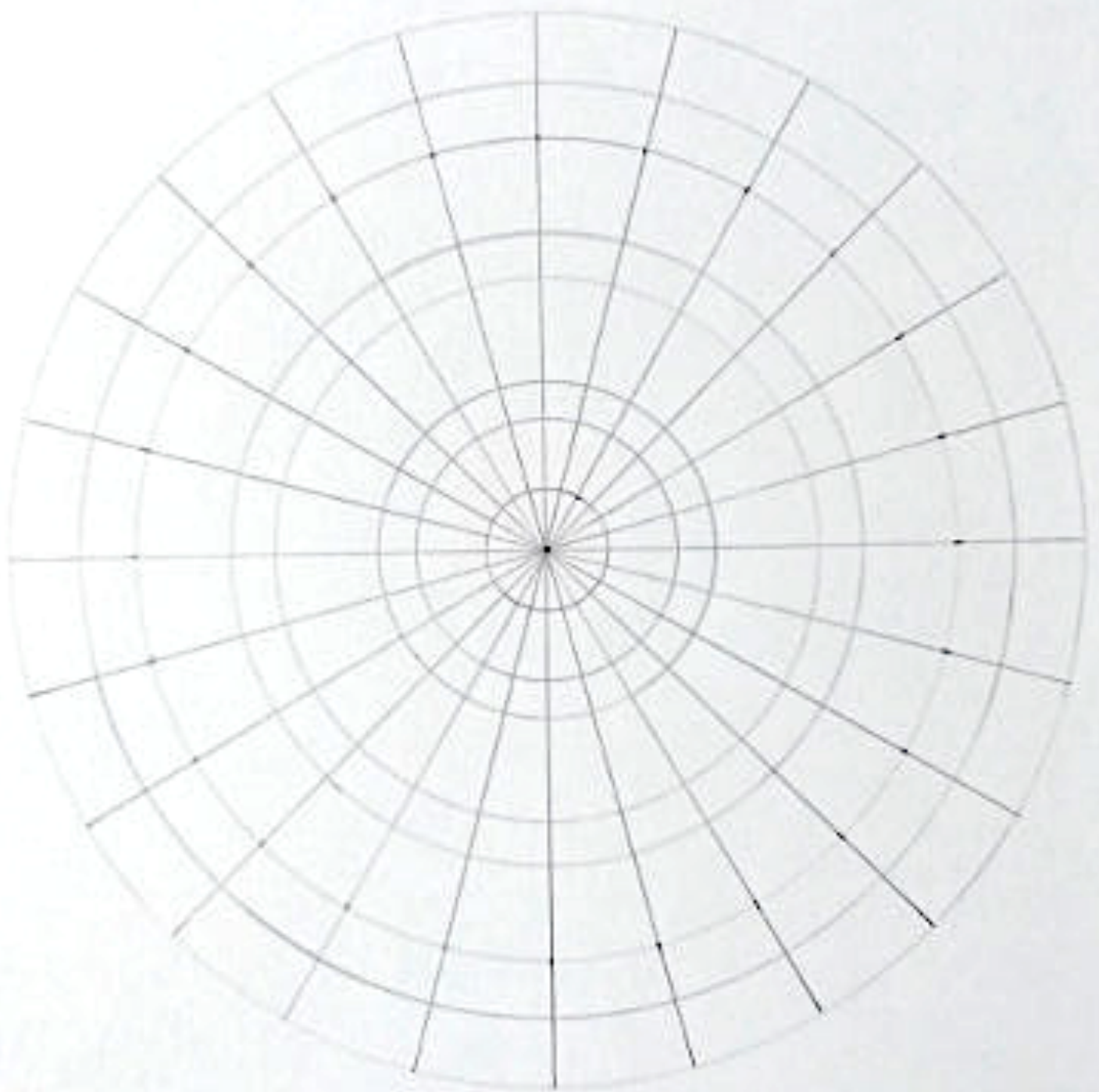


Etape 5: Dessiner le mandala en commençant par le centre



<https://coeursbohemes.com>

Tu dois arriver à ce résultat. Si tu n'as pas réussi ce n'est pas grave, tu peux utiliser le modèle ci-dessous :



Quelques modèles de mandala pour t'amuser à les décalquer et/ou les colorier :

